

**Проверочная работа
по МАТЕМАТИКЕ**

7 класс

Вариант 12

Инструкция по выполнению работы

На выполнение работы по математике даётся 90 минут. Работа содержит 16 заданий.

В заданиях, после которых есть поле со словом «Ответ», запишите ответ в указанном месте.

В задании 12 нужно отметить и обозначить точки на числовой прямой. В задании 15 нужно построить схематично график.

В заданиях, после которых есть поля со словами «Решение» и «Ответ», запишите решение и ответ в указанных местах.

Если Вы хотите изменить ответ, зачеркните его и запишите рядом другой.

При выполнении работы нельзя пользоваться учебниками, рабочими тетрадями, справочниками, калькулятором.

При необходимости можно пользоваться черновиком. Записи в черновике проверяться и оцениваться не будут.

Советуем выполнять задания в том порядке, в котором они даны. Для экономии времени пропускайте задание, которое не удаётся выполнить сразу, и переходите к следующему. Постарайтесь выполнить как можно больше заданий.

Желаем успеха!

1 Найдите значение выражения $3\frac{11}{15} : \frac{4}{5} + \frac{1}{3}$.

Ответ:

2 Найдите значение выражения $6,4 \cdot 8,5 + 0,8$.

Ответ:

3 В таблице показаны характеристики некоторых моделей телефонов.

Характеристика	Модель телефона						
	№ 1	№ 2	№ 3	№ 4	№ 5	№ 6	№ 7
Цена, руб.	11 200	13 500	12 100	32 200	13 700	13 800	12 600
Наличие системы бесконтактной оплаты	да	нет	нет	да	да	да	нет
Диагональ экрана, дюймы	6,0	6,3	6,0	5,8	5,8	6,2	6,3
Оперативная память, ГБ	3	4	4	4	4	3	4

Елизавета выбирает себе телефон не дороже 13 000 рублей. Телефон какой модели из предложенных ей следует купить, чтобы с помощью телефона можно было оплачивать покупки?

Ответ:

4 Самолёт летит со скоростью 756 км/ч. Сколько метров он преодолевает за одну секунду?

Ответ:

5 После подорожания цена куртки поднялась с 2900 рублей до 3625 рублей. На сколько процентов подорожала куртка?

Ответ:

6

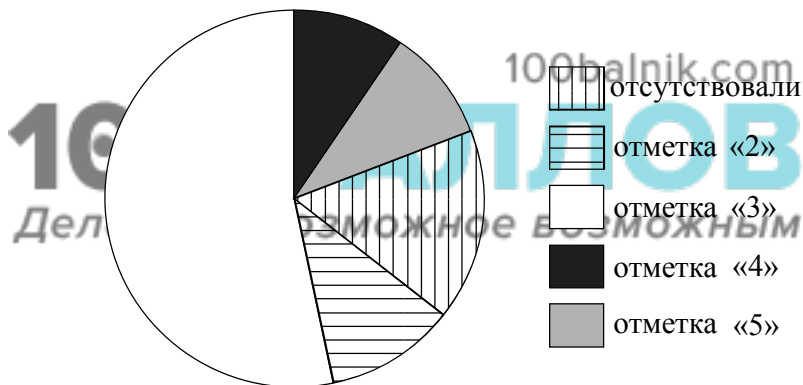
В самолёте на выбор предлагают два обеденных набора. Первый набор: говядина с картофелем и имбирный пряник на десерт. Второй набор: курица с макаронами и шоколадка на десерт. В этом самолёте летят Дмитрий и Валерия. Известно, что у Дмитрия в наборе оказался картофель, а у Валерии в наборе был пряник. Выберите верные утверждения и запишите в ответе их номера.

1. У Валерии в наборе был картофель.
2. В наборе у Дмитрия была шоколадка.
3. У Валерии в наборе оказалась говядина.
4. В наборе у Дмитрия оказалась курица.

Ответ:	
--------	--

7

Завуч подвёл итоги контрольной работы по математике в девятых классах. Результаты представлены на диаграмме.



Определите по диаграмме, сколько примерно учеников отсутствовало на контрольной, если всего в школе 100 девятиклассников.

Ответ:	
--------	--

11

Найдите значение выражения $(2-c)^2 - 4(2-c)$ при $c = 0,2$.

--

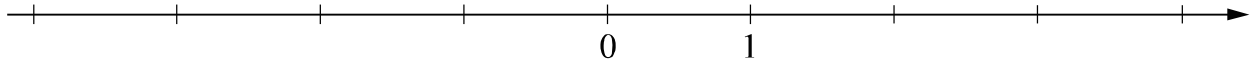
Ответ:	
--------	--

12

Отметьте и обозначьте на координатной прямой точки $A\left(3\frac{5}{13}\right)$, $B(-0,29)$ и $C(3,24)$.

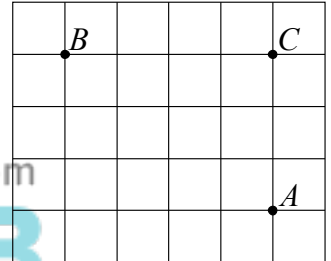
Ответ:

--



13

На клетчатой бумаге с размером клетки 1×1 отмечены точки A , B и C . Найдите сумму углов ABC и CAB . Ответ дайте в градусах.



--

Ответ:	
--------	--



14

В равнобедренном треугольнике ABC с основанием AC угол B равен 120° . Высота треугольника, проведённая из вершины A , равна 8. Найдите длину стороны AC .

Решение:	
----------	--

--

Ответ:	
--------	--

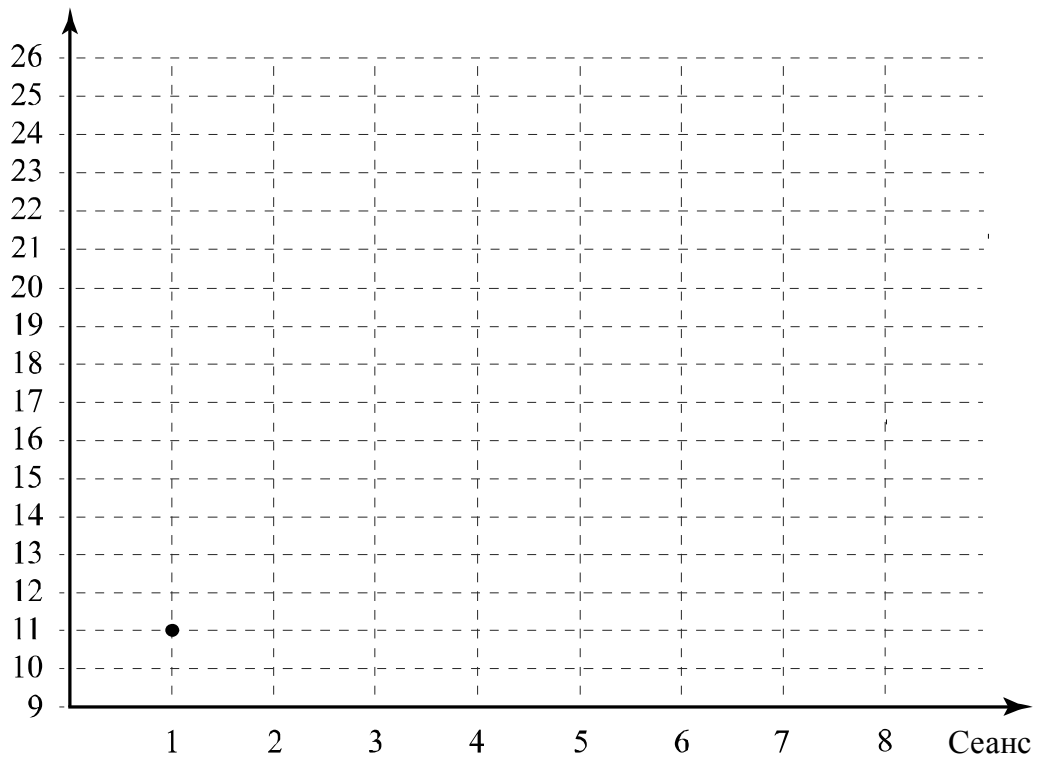
15

Прочитайте текст.

В четверг утром к открытию катка пришли первые посетители. Первый сеанс начался в 11:00. Пришло 11 человек: две мамы с детьми и несколько школьников, которые учатся во вторую смену. Второй сеанс посетили на 2 человека больше. На третьем сеансе было 14 человек. На четвёртый сеанс пришли школьники, у которых уже закончились уроки, и несколько дошкольников с родителями, так что число посетителей увеличилось на 6 человек. Пятый сеанс начался в 15:00, на каток пришёл 21 человек. Прямо перед шестым сеансом пошёл мокрый снег, поэтому посетителей стало меньше на 5 человек, чем было на пятом сеансе. К началу седьмого сеанса мокрый снег кончился, поэтому число катающихся возросло в 1,5 раза по сравнению с предыдущим сеансом. Восьмой сеанс начался в 20:00. Катающихся было на 4 человека меньше, чем во время седьмого сеанса.

По описанию постройте график зависимости числа посетителей катка от сеанса. Соседние точки соедините отрезками. Точка, показывающая число посетителей на первом сеансе, уже отмечена на рисунке.

Ответ: Число посетителей



16

В 11:30 велосипедист выехал из пункта А в пункт В. Доехав до пункта В, он сделал остановку на полчаса, а в 14:00 выехал обратно с прежней скоростью. В 15:30 ему оставалось проехать 8 км до пункта А. Найдите расстояние между пунктами А и В.

Запишите решение и ответ.

Решение:

Ответ:

100balnik.com

100-БАЛЛОВ
Делаем невозможное возможным