

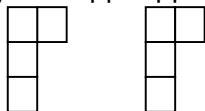
Для заданий 1-4 обведи номер правильного ответа. Обведённые цифры, а также ответы для заданий 5-14 запиши в бланк тестирования справа от номера соответствующего задания.

- 1) Фермеру надо засеять поле длиной 12 м и шириной 6 м. На каждый квадратный метр поля нужно 200 г семян. Сколько граммов семян потребуется фермеру заготовить для посева?
 1) 72 2) 2400 3) 7200 4) 14400

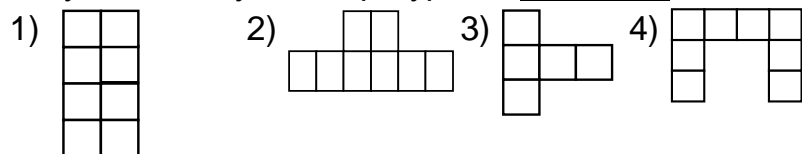
- 2) На уроке при нахождении значения числового выражения $(18 \cdot 5) + (2870 : 14)$ ученики получили разные ответы. Какой из ответов верный?
 1) 3960 2) 295 3) 205 4) 115

- 3) В библиотеку привезли 225 книг. 45 книг для малышей передали детскому саду, а остальные книги поставили на несколько полок по 30 штук на каждую. Сколько полок заполнили книгами?
 1) 6 2) 60 3) 180 4) 270

- 4) Таня вырезала из бумаги две детали:



Из них она стала складывать фигуры. Какую из следующих фигур она не могла сложить?



- 5) Даша делает одинаковые браслеты из бусин в подарок своим подругам. На 3 браслета у неё ушло 96 бусин. Сколько бусин ей потребуется, если она хочет сделать подарки 12 подругам? Обведи номера верных числовых выражений. В ответе запиши обведённые цифры, не разделяя их запятой.

- 1) $96 : 12 \cdot 3$
 2) $96 : 12 : 3$
 3) $96 : 3 \cdot 12$
 4) $96 \cdot (12 : 3)$
 5) $96 : 3 + 12 : 34$
 6) $96 \cdot (12 \cdot 3)$

Ответ: _____

- 6) Петя и Толя играют в числа. Петя задумал трёхзначное число, а Толя должен его отгадать. Петя сказал, что это число чётное, записано цифрами 2, 5, 7, в нём десятков больше, чем сотен. Запиши это число.

Ответ: _____

- 7) Даша записала числа, указанные в верхней строке таблицы. Соня из этих чисел получила другие числа, выполнив некоторое действие. Запиши в ответе число, которое пропустила Соня.

Числа Даши	80	120	140	260	320
Числа Сони	4	6	7		16

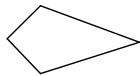
Ответ: _____

Фамилия _____

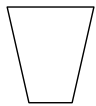
Вариант 1503

8 Битва на Курской Дуге состоялась в 1943 году. Сколько лет прошло с тех пор?
 Ответ: _____ года

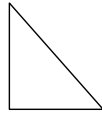
9 Рассмотрите фигуры.




А



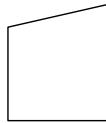
Б



В



Г



Д

Запиши буквы, обозначающие фигуры, у которых есть две пары равных сторон. Между буквами запятые ставить не нужно.
 Ответ: _____

10 Гена идёт в школу со скоростью 70 м/мин. Если он уменьшит скорость, то время в пути увеличится или уменьшится?
 Ответ: _____

11 Для получения значка «Готов к труду и обороне» по прыжкам в длину с места, четверокласснице нужно показать такие результаты.

	Значок	Результат - не меньше
Б	Бронзовый	125 см
С	Серебряный	130 см
З	Золотой	150 см

Запишите в таблицу под каждым именем букву, обозначающую значок, который получит ученица.

Четвероклассница	Света	Галя	Лена
Результат ученика:	128 см	152 см	160 см
Значок (буквы):			

12 В пачке 100 листов бумаги. Для урока рисования взяли десятую часть всех листов. На сколько уменьшилось число листов бумаги в пачке?
 Ответ: на _____
 Запиши в бланк только число.

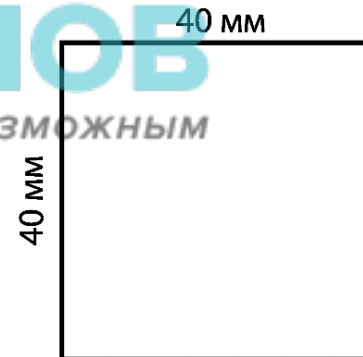
13 Рост Миши 145 см. Миша на 20 см ниже своей сестры Лены. Какой рост у Лены?
 Ответ: _____ см
 Запиши в бланк только число.

14 Квадрат со стороной 40 мм, изображённый на рисунке, разрезали на два одинаковых прямоугольника.

100balnik.com

100-БАЛЛОВ

Делать невозможное возможным



Чему равен периметр одного прямоугольника?
 Ответ: _____ мм
 Запиши в бланк только число.

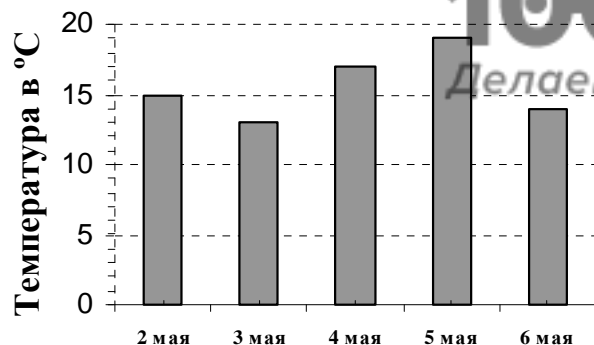
Не забудь перенести ответы в бланк тестирования.

**Для записи ответов на задания С1–С6
используй обратную сторону бланка.**

С1 С помощью линейки начерти отрезок ОР длиной 6 см. Отметь на нём точку М так, чтобы отрезок ОМ был на 1 см короче отрезка МР.
Сделай чертёж на обратной стороне бланка, указав номер задания – С1. После построения чертежа обведи его черной ручкой.

С2 На ферме надоили 1500 л молока. Из 300 л сделали творог, а остальное молоко разлили поровну в 40 бидонов. Сколько молока налили в каждый бидон?
Запиши решение и ответ на обратной стороне бланка, указав номер задания – С2.

С3 На диаграмме представлена дневная температура в Москве в начале мая.



Оля посмотрела на диаграмму и сказала: «В некоторые дни дневная температура была ниже 15 градусов». Права Оля или не права?
Запиши ответ и его объяснение на обратной стороне бланка, указав номер задания – С3.

С4 Для поездки школьников на экскурсию в город Ярославль заказали три автобуса, в каждом из которых по 39 мест. Из младших классов пришли 80 учеников, а из старших классов – 38. Хватит ли в автобусах мест для всех школьников?

Запиши ответ и его объяснение на обратной стороне бланка, указав номер задания – С4.

С5 Садовник обходит газон прямоугольной формы длиной 40 м и шириной 20 м по его краю. Он обошел газон один раз, затратив 3 минуты. С какой скоростью двигался садовник?

Запиши решение и ответ на обратной стороне бланка, указав номер задания – С5.

С6 Васильевы купили принтер за 3600 р. Один картридж (часть принтера, заправленная чернилами для печати) без заправки может отпечатать 2000 страниц. Всем членам семьи Васильевых за месяц обычно надо напечатать не более 150 страниц. Хватит ли этого картриджа на полтора года?

Запиши решение и ответ на обратной стороне бланка, указав номер задания – С6.